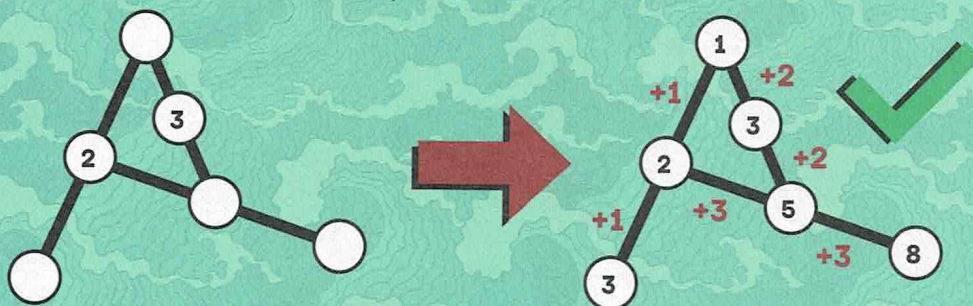


Naoki Inaba

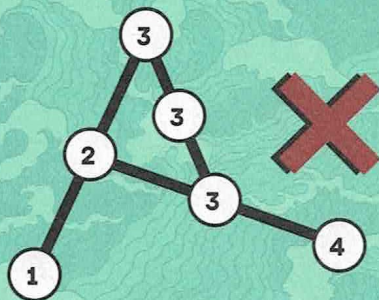
# Japońskie tamigtówki

## Instrukcja

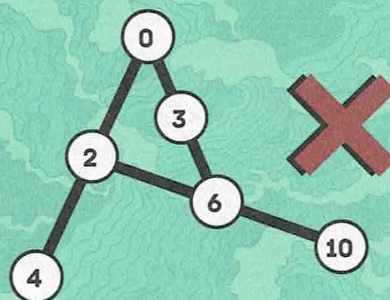
Uzupełnij diagram liczbami całkowitymi dodatnimi.  
Liczby leżące w jednej linii muszą zostać ustawione kolejno –  
od najmniejszej do największej lub odwrotnie.  
Różnice pomiędzy sąsiednimi liczbami w jednej linii muszą  
być takie same.



Każda tamigtówka ma zawsze tylko jedno rozwiązanie.



To jest zła odpowiedź,  
ponieważ liczby leżące  
w jednej linii nie mogą  
się powtarzać.



To jest zła odpowiedź,  
ponieważ w tamigtówce  
nie można wykorzystywać  
liczby 0.